

НОМЕР КИМ

**Государственная (итоговая) аттестация
по МАТЕМАТИКЕ
Вариант № 1320**

Инструкция по выполнению работы

Общее время экзамена — 235 минут.

Характеристика работы. Всего в работе 26 заданий, из которых 20 заданий базового уровня (часть 1) и 6 заданий повышенного уровня (часть 2). Работа состоит из трёх модулей: «Алгебра», «Геометрия», «Реальная математика».

Модуль «Алгебра» содержит 11 заданий: в *части 1* — 8 заданий; в *части 2* — 3 задания. Модуль «Геометрия» содержит 8 заданий: в *части 1* — 5 заданий; в *части 2* — 3 задания. Модуль «Реальная математика» содержит 7 заданий: все задания — в *части 1*.

Советы и указания по выполнению работы. Сначала выполняйте задания части 1. Начать советуем с того модуля, задания которого вызывают у Вас меньше затруднений, затем переходите к другим модулям. Для экономии времени пропускайте задание, которое не удаётся выполнить сразу, и переходите к следующему. Если у Вас останется время, Вы сможете вернуться к пропущенным заданиям.

Все необходимые вычисления, преобразования и т.д. выполняйте в черновике. Если задание содержит рисунок, то на нём непосредственно в тексте работы можно выполнять необходимые Вам построения. Рекомендуем внимательно читать условие и проводить проверку полученного ответа. Ответы сначала укажите на листах с заданиями экзаменационной работы, а затем перенесите в бланк ответов № 1.

Решения к заданиям части 2 и ответы к ним запишите на бланке ответов № 2. Задания можно выполнять в любом порядке, начиная с любого модуля. Текст задания переписывать не надо, необходимо только указать его номер. Обращаем Ваше внимание на то, что записи в черновике не будут учитываться при оценивании работы.

При выполнении работы Вы можете воспользоваться справочными материалами.

Как оценивается работа. Баллы, полученные Вами за верно выполненные задания, суммируются. Для успешного прохождения итоговой аттестации необходимо набрать в сумме не менее 8 баллов, из них: не менее 3 баллов по модулю «Алгебра», не менее 2 баллов по модулю «Геометрия» и не менее 2 баллов по модулю «Реальная математика». За каждое правильно выполненное задание части 1 выставляется 1 балл. В каждом модуле части 2 задания расположены по нарастанию сложности и оцениваются в 2, 3 и 4 балла.

Желаем успеха!

Часть 1

▪ Для заданий с выбором ответа (2, 3, 8, 14) из четырёх предложенных вариантов выберите один верный.

В бланке ответов № 1 поставьте знак «x» в клеточку, номер которой соответствует номеру выбранного Вами ответа.

▪ Для заданий с кратким ответом полученный результат сначала запишите на листе с текстом работы после слова «Ответ». Если получена обыкновенная дробь, обратите её в десятичную.

Перенесите ответ в бланк ответов № 1 справа от номера соответствующего задания, начиная с первой клеточки. Каждый символ (цифру, знак минус, запятую или точку с запятой) пишите в отдельной клеточке в соответствии с приведёнными в бланке образцами. Единицы измерений указывать не нужно.

▪ Если при решении задания 4 найдено несколько корней, запишите их (в любом порядке) в бланк ответов № 1, разделив точкой с запятой (;).

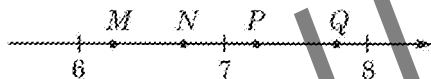
Ответом к заданиям 5 и 13 является последовательность цифр. Перенесите цифры в бланк № 1 без пробелов, запятых и других символов.

Модуль «Алгебра»

1 Найдите значение выражения $-0,7 \cdot (-10)^2 + 90$.

Ответ: _____.

2 Одна из точек, отмеченных на координатной прямой, соответствует числу $\sqrt{52}$. Какая это точка?



- 1) точка M 2) точка N 3) точка P 4) точка Q

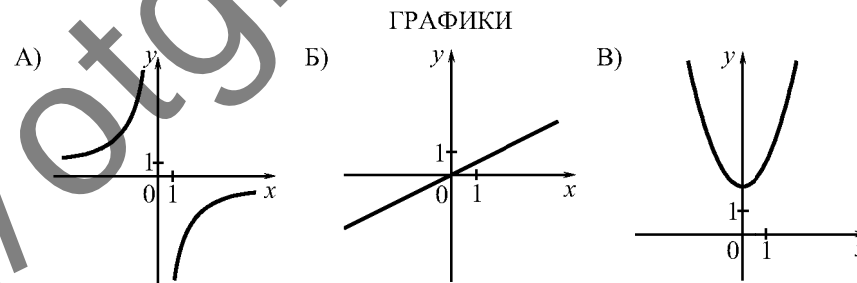
3 В какое из следующих выражений можно преобразовать дробь $\frac{(c^{-6})^2}{c^{-3}}$?

- 1) c^{-9} 2) c^{-1} 3) c^{-15} 4) c^4

4 Найдите корни уравнения $3x^2 + 12x = 0$.

Ответ: _____.

5 Установите соответствие между графиками функций и формулами, которые их задают.



ФОРМУЛЫ

- 1) $y = x^2 + 2$ 2) $y = \frac{1}{2}x$ 3) $y = -\frac{6}{x}$ 4) $y = -\frac{1}{2}x$

Ответ:

А	Б	В

6 Дана арифметическая прогрессия (a_n) : 6, 10, 14, Найдите a_{11} .

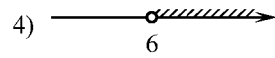
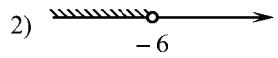
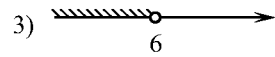
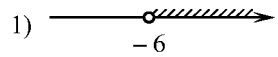
Ответ: _____.

7 Упростите выражение $\frac{4a - a^2}{3 + a} : \frac{a^2}{3 + a}$ и найдите его значение при $a = 0,8$.

В ответе запишите найденное значение.

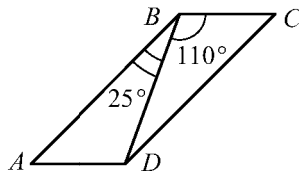
Ответ: _____.

8) Решите неравенство $3 - 4x > 11 - 8(x - 2)$ и определите, на каком рисунке изображено множество его решений.



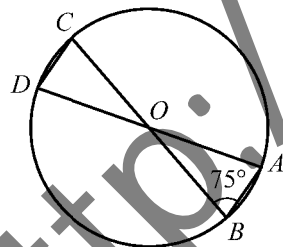
Модуль «Геометрия»

9) Диагональ BD параллелограмма $ABCD$ образует с его сторонами углы, равные 25° и 110° . Найдите меньший угол параллелограмма.



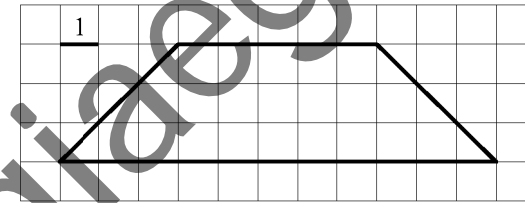
Ответ: _____ град.

10) В окружности с центром в точке O проведены диаметры AD и BC , угол ABO равен 75° . Найдите величину угла ODC .



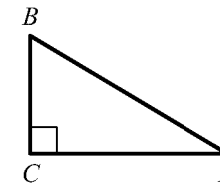
Ответ: _____ град.

11) Найдите площадь трапеции, изображённой на рисунке.



Ответ: _____.

12) В треугольнике ABC угол C прямой, $BC = 8$, $\cos B = 0,8$. Найдите AB .



Ответ: _____.

13) Укажите номера верных утверждений.

- 1) Диагонали любого прямоугольника равны.
- 2) Если в треугольнике есть один острый угол, то этот треугольник остроугольный.
- 3) Если точка лежит на биссектрисе угла, то она равноудалена от сторон этого угла.

Ответ: _____.

Модуль «Реальная математика»

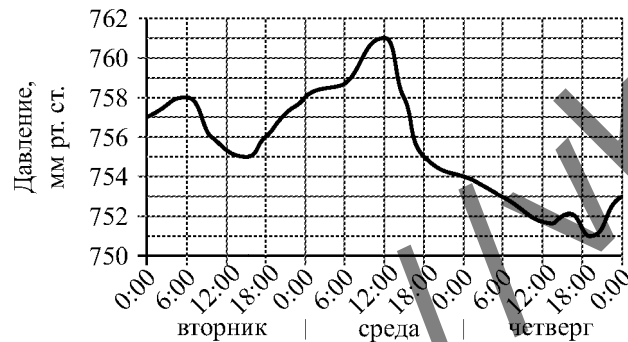
14 В таблице даны рекомендуемые суточные нормы потребления (в г/сутки) жиров, белков и углеводов детьми от 1 года до 14 лет и взрослыми.

Вещество	Дети от 1 года до 14 лет	Мужчины	Женщины
Жиры	40–97	70–154	60–102
Белки	36–87	65–117	58–87
Углеводы	170–420	257–586	

Какой вывод о суточном потреблении белков женщиной можно сделать, если по подсчётам диетолога в среднем за сутки она потребляет 91 г белков?

- 1) Потребление в норме.
- 2) Потребление выше рекомендуемой нормы.
- 3) Потребление ниже рекомендуемой нормы.
- 4) В таблице недостаточно данных.

15 На рисунке изображён график изменения атмосферного давления в городе Энске за три дня. По горизонтали указаны дни недели и время, по вертикали — значения атмосферного давления в миллиметрах ртутного столба. Укажите значение атмосферного давления в четверг в 6 часов утра.

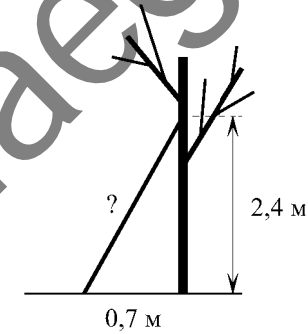


Ответ: _____ мм рт. ст.

16 Утюг, который стоил 2000 рублей, продается с 15%-й скидкой. При покупке этого утюга покупатель отдал кассиру 5000 рублей. Сколько рублей сдачи он должен получить?

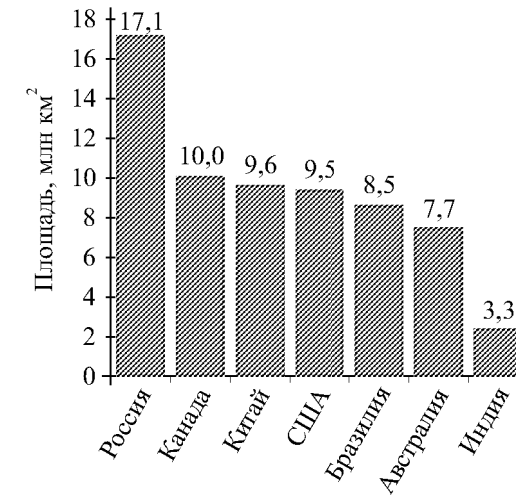
Ответ: _____ р.

17 Какова длина (в метрах) лестницы, которую прислонили к дереву, если верхний её конец находится на высоте 2,4 м над землёй, а нижний отстоит от ствола дерева на 0,7 м?



Ответ: _____ м.

18 На диаграмме представлены семь крупнейших по площади территории (в млн км²) стран мира.



Какое из следующих утверждений верно?

- 1) Площадь Австралии больше площади Канады.
- 2) Площадь территории Индии составляет 8,5 млн км².
- 3) Монголия входит в семёрку крупнейших по площади территории стран мира.
- 4) Площадь Канады больше площади Индии более, чем в 3 раза.

В ответе запишите номер выбранного утверждения.

Ответ: _____.

- 19 На экзамене 20 билетов, Сергей не выучил 2 из них. Найдите вероятность того, что ему попадётся выученный билет.

Ответ: _____.

- 20 В фирме «Чистая вода» стоимость (в рублях) колодца из железобетонных колец рассчитывается по формуле $C = 6500 + 4000 \cdot n$, где n — число колец, установленных при рытье колодца. Пользуясь этой формулой, рассчитайте стоимость колодца из 14 колец.

Ответ: _____ р.

Не забудьте перенести все ответы в бланк ответов № 1.

Часть 2

При выполнении заданий 21–26 используйте бланк ответов № 2. Сначала укажите номер задания, а затем запишите его решение и ответ. Пишите чётко и разборчиво. Обращаем Ваше внимание на то, что записи в черновике не будут учитываться при оценивании работы.

Модуль «Алгебра»

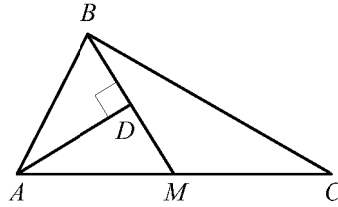
21 Решите неравенство $\frac{x^2}{3} > \frac{8x-9}{5}$.

- 22 Из пункта A в пункт B , расстояние между которыми 13 км, вышел пешеход. Через полчаса навстречу ему из B в A выехал велосипедист, который ехал со скоростью, на 11 км/ч большей скорости пешехода. Найдите скорость велосипедиста, если известно, что они встретились в 5 км от пункта A .

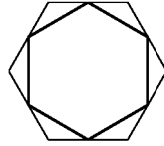
- 23 При каких положительных значениях k прямая $y = kx - 4$ имеет с параболой $y = x^2 - 3x$ ровно одну общую точку? Найдите координаты этой точки и постройте данные графики в одной системе координат.

Модуль «Геометрия»

- 24 Прямая AD , перпендикулярная медиане BM треугольника ABC , делит угол BAC пополам. Найдите сторону AB , если сторона AC равна 4.



- 25 Дан правильный шестиугольник. Докажите, что если последовательно соединить отрезками середины его сторон, то получится правильный шестиугольник.



- 26 В трапеции $ABCD$ основание AD вдвое больше основания BC и вдвое больше боковой стороны CD . Угол ADC равен 60° , сторона AB равна 6. Найдите площадь трапеции.